

بسمه تعالی

سازمان آموزش و پرورش استان

ماده آموزش و پرورش شهرستان

نام درس: ریاضی پایه: ششم نام دبستان: مدت ارزشیابی: ۹۰ دقیقه نام معلم: نام و نام خانوادگی:

۱/۵	الف) دستور کار: پاسخ درست را با علامت (X) داخل <input type="checkbox"/> مشخص نمایید.	
	۱- متمم زاویه ی ۷۵ درجه ، یک زاویه ی ۱۵ درجه است.	بلی <input type="checkbox"/> خیر <input type="checkbox"/>
	۲- حاصل عبارت $0/5 \times 0/4$ برابر ۲۰ می باشد.	بلی <input type="checkbox"/> خیر <input type="checkbox"/>
	۳- ۱۵٪ تخفیف یعنی مثلاً از ۱۰۰ تومان ۸۵ تومان باید پرداخت شود.	بلی <input type="checkbox"/> خیر <input type="checkbox"/>
۲	ب) دستور کار: جاهای خالی را به طور مناسب کامل کنید.	
	۱- کشیدن یک شکل مناسب می تواند به حل کمک کند	
	۲- طول کتاب ریاضی ۲۵ است	
	۳- یک متر مکعب برابر دسی متر مکعب می باشد	
	۴- با دوران یک شکل حول محور تقارن به اندازه ی درجه، فرینه ی مرکزی آن به دست می آید.	
۰/۷۵	ج) دستور کار: پاسخ درست را به عبارت مناسب وصل کنید.	
	۱- واحد اندازه گیری حجم	متر
	۲- واحد اندازه گیری زاویه	متر مربع
	۳- واحد اندازه گیری طول	متر مکعب
		درجه
۱	د) دستور کار: مقایسه کنید.	
	۱۸ <input type="checkbox"/> ۲۸ <input type="checkbox"/> $27/9$ <input type="checkbox"/> $2\frac{3}{3}$ <input type="checkbox"/> $0/78$ <input type="checkbox"/> $0/78$ <input type="checkbox"/> $1/3$ <input type="checkbox"/> $0/224$ <input type="checkbox"/>	
۲	ن) دستور کار: پاسخ درست را با علامت (X) داخل <input type="checkbox"/> مشخص نمایید.	
	۱- دمای تهران ۳ درجه بالای صفر و دمای آمل ۱۰ درجه از تهران گرم تر است، دمای آمل کدام است؟	الف) ۱۳- <input type="checkbox"/> ب) ۱۳+ <input type="checkbox"/> ج) ۷- <input type="checkbox"/> د) ۷+ <input type="checkbox"/>
	۲- حجم مکعبی با ابعاد ۴ سانتی متر ، چند سانتی متر مربع است.	الف) ۱۰۶۴ <input type="checkbox"/> ب) ۶۴ <input type="checkbox"/> ج) ۶۴ <input type="checkbox"/> د) ۱۶۶ <input type="checkbox"/>
	۳- اگر عدد ۴۷۶۹ را به صورت ۴۷۰ بیان کنیم ، از چه تقریبی استفاده کرده ایم ؟	الف) کمتر از ۱ <input type="checkbox"/> ب) کمتر از ۱۰ <input type="checkbox"/> ج) کمتر از ۱۰۰ <input type="checkbox"/> د) کمتر از ۱۰۰۰ <input type="checkbox"/>
	۴- ۲۵٪ زاویه ی نیم صفحه چند درجه است؟	الف) ۲۰ <input type="checkbox"/> ب) ۲۵ <input type="checkbox"/> ج) ۳۵ <input type="checkbox"/> د) ۴۵ <input type="checkbox"/>



بسمه تعالی

سیزدهمین آموزش و پرورش استان

اداره آموزش و پرورش شهرستان

نام و نام خانوادگی:

نام معلم:

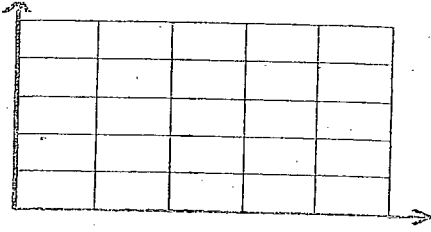
مدت ارزشیابی ۹۰ دقیقه

نام دبستان:

پایه: ششم

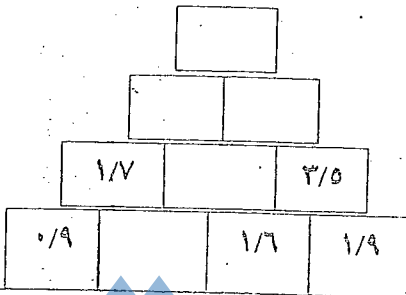
نام درس: ریاضی

۷- نقاط $\begin{bmatrix} 4 \\ 4 \end{bmatrix}$ ، $\begin{bmatrix} 1 \\ 4 \end{bmatrix}$ ، $\begin{bmatrix} 1 \\ 1 \end{bmatrix}$ ، $\begin{bmatrix} 4 \\ 1 \end{bmatrix}$ را روی محور مختصات نشان دهید.



ب) مساحت شکل حاصل را بدست آورید.

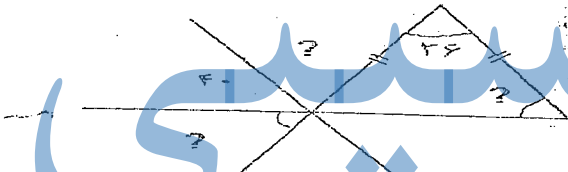
۹/۲۵



۹- با توجه به الگو، جاهای خالی را با اعداد مناسب پر کنید؟

۱/۵

۸- با توجه به شکل اندازه ی زاویه های خواسته شده را محاسبه کنید.

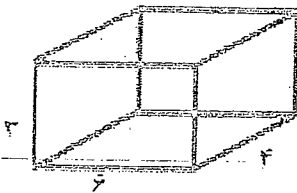


1/5

۱۰- نسبت طول مستطیلی به عرض آن ۵ به ۳ است. اگر محیط مستطیل ۸۰ سانتی متر باشد مساحت آن چقدر است؟

۱/۵

۱۱- با توجه به اندازه های داده شده مساحت همه سطح های شکل زیر را بدست آورید.



نمره تجدید نظر

نمره با حروف

نمره با عدد

امضا و تاریخ

نام و نام خانوادگی معلم

پسته تعالی

سازمان آموزش و پرورش استان

اشاره آموزش و پرورش شهرستان

نام و نام خانوادگی:

مدت ارزشیابی ۹۰ دقیقه نام معلم:

نام درس: ریاضی پایه: ششم نام دبستان:

(و به سوالات زیر با دقت پاسخ دهید.

۱- سیمی را ۴ قسمت کردیم چگونه می توانیم یک قسمت از این ۴ قسمت را بین ۳ نفر تقسیم کنیم؟ (با رسم شکل)

$$\frac{1}{4} - 1\frac{1}{3} =$$

۲- حاصل عبارت روپرو را با استفاده از محور به دست آورید.

۳- ضخامت ۴۸۰ صفحه از کتابی ۲۶ میلی متر است. ضخامت یک برگ چند میلی متر است؟

۴- چهار ساعت و دوازده دقیقه را به صورت اعدادی نمایش دهید.

۵- مقدار تقریبی اعداد داده شده را به دو روش شمرسته شده بنویسید.

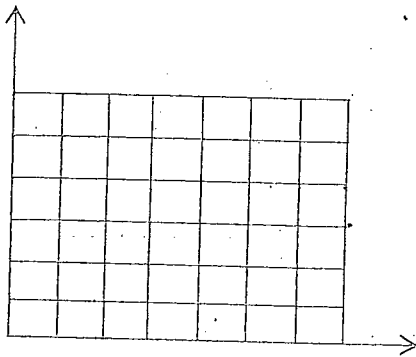
مقدار تقریب	گرد کردن	قطع کردن	عدد
کمتر از ۱			۲/۹۹
کمتر از ۱۰۰			۵۶

۶- عدد ۱۵۹/۹۹۵ را با چه تقریب هایی می توانیم گرد کنیم تا عدد ۳۶۰ به دست آید؟ (با تقریب کمتر از تقریبهای مختلفی را امتحان کنید.)

نام و نام خانوادگی

۱۰- مختصات نقاط $[۱]$ ، $[۳]$ ، $[۳]$ رأس های یک شکل هندسی می باشند. بخش ۵

خ
خ
ن
خ
خ
ن
خ
خ
ن
خ
خ
ن



الف - نقاط را زوی محور مشخص کرده و شکل را رسم کنید.

ب- نام شکل را بنویسید.

ج- مساحت شکل را بدست آورید.

د- قرینه ی مرکزی شکل را بدست آورید.

(مرکز تقارن را $[۳]$ بگیرید.)

۱۱- تقسیم های زیر را تا ۲ رقم اعشار در خارج قسمت بدست آورید. بخش ۲

$$45/9 \quad | \quad 2/1$$

$$0.4 \quad | \quad 25$$

جزوه سیتی

خ
خ
ق-ق

خ
خ
ق-ق
ن

سرکاره و پرورش یافته - زاری

این قسمت نسبت به عنوان چگونگی استاندارد کردن
↓